

GIOCHI D'AUTUNNO

novembre 2001

COGNOME _____ NOME _____

SCUOLA _____ CITTA' _____

CATEGORIA _____

Tempo impiegato minuti:


--	--

1) Pinocchio ha preso ...**13**...


2)



B



C



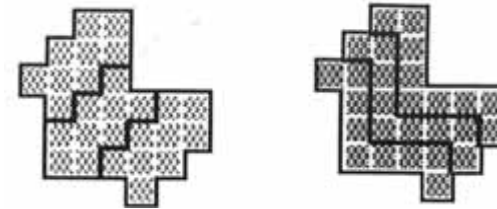
3) Si possono leggere ...**50**"8"

4) Desiderio ha utilizzato al massimo ...**6**..... pezzi

5) Ci sono due soluzioni:**3**.....;**7**.....

6) I numeri di 4 cifre che rispondono alla domanda sono.....**20**.....

7)



8) Chiara ha tolto**184**..... cubi.

9) Nella figura si trovano**16**... triangoli

10) Tra Mauro e Renato ci sono ...**20**..... cm di differenza

11) Le due botti hanno (al minimo) una capacità di**205**..... litri

12) Eravamo in ...**3**.....

13) Le cartelle di Carla (al minimo) sono ...**0**.....

14) La tappa dura: ...**7h, 30'**.....

15) **RUFFINI**

16) Abbiamo bevuto **15** litri di vino

17) Le persone si possono mettere in fila in **100.800** modi

18) Bisogna scambiare **9** con **11** e **8** con **18**

19) L'area è **42** cm²:

20) Il volume della piramide è **408** cm³.